

全真模拟训练卷 **重 点 学 校 卷** (四)

题号	一	二	三	四	五	六	七	八	九	十	十一	十二	总分
得分													

一、填一填。(20分)

- 一个两位数的十位上是1,个位上的数比十位上的数大8,这个数是(19)。
- 比80少16的数是(64),比29多13的数是(42)。
- 第一小组的14个女生站成一排,老师在每相邻2个女生之间插1个男生,一共可以插进(13)个男生。
- 把98,58,70,85和89这五个数按从大到小的顺序排列是(98) > (89) > (85) > (70) > (58)。
- 小亮和小丽都集邮,小亮给小丽6枚后,两人邮票同样多,原来小亮的邮票比小丽多(12)枚。
- 找规律填数。
 - 5,10,15,20,(25),(30),(35)。
 - 67,56,45,34,(23),(12)。
- 早操时小红说:“从前面数我排18,从后面数我排22。”这一列一共有(39)人。
- 把7,8,9,10分别填入下面的□中,每个数只能用一次。

$$\boxed{7} + \boxed{10} = \boxed{8} + \boxed{9} \text{ (填法不唯一)}$$

二、在□里填上合适的数。(6分)

$$46 + 18 = 31 + \boxed{33}$$

$$48 + \boxed{13} = 61$$


$$84 - \boxed{47} = 44 - 7$$

$$71 - \boxed{37} = 34$$

$$34 - 7 = 81 - \boxed{54}$$

$$6 + 34 = \boxed{60} - 20$$

三、小动物排队。(把下列算式按得数的大小排一排)(5分)




$$\boxed{37+17}$$




$$\boxed{67-37}$$



$$\boxed{68-45}$$




$$\boxed{91-53}$$



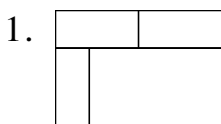
$$\boxed{82-37}$$

$$\underline{68-45} < \underline{67-37} < \underline{91-53} < \underline{82-37} < \underline{37+17}$$

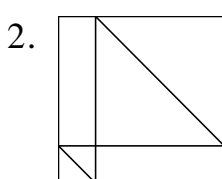
四、下面各图分别是谁看到的? 用线连一连。(4分)



五、数图形。(4分)



(7) 个长方形。



(6) 个长方形,

(3) 个正方形,

(4) 个三角形。

六、用竖式计算。(16分)

$$83 - 7 = 76$$

$$\begin{array}{r} 83 \\ - 7 \\ \hline 76 \end{array}$$

$$53 + 9 = 62$$

$$\begin{array}{r} 53 \\ + 9 \\ \hline 62 \end{array}$$

$$24 + 33 = 57$$

$$\begin{array}{r} 24 \\ + 33 \\ \hline 57 \end{array}$$

$$34 + 46 = 80$$

$$\begin{array}{r} 34 \\ + 46 \\ \hline 80 \end{array}$$

$$68 - 17 = 51$$

$$\begin{array}{r} 68 \\ - 17 \\ \hline 51 \end{array}$$

$$62 - 36 = 26$$

$$\begin{array}{r} 62 \\ - 36 \\ \hline 26 \end{array}$$

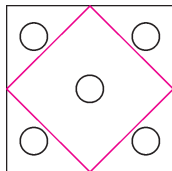
$$40 - 28 = 12$$

$$\begin{array}{r} 40 \\ - 28 \\ \hline 12 \end{array}$$

$$44 - 6 = 38$$

$$\begin{array}{r} 44 \\ - 6 \\ \hline 38 \end{array}$$

七、一个正方形里有5个○,在这个正方形里面再画一个正方形,正好把5个○分开,你能画出这个正方形吗?(5分)



八、里应填几?(8分)

$$\begin{array}{r} 27 \\ + \boxed{5}2 \\ \hline 79 \end{array}$$

$$\begin{array}{r} 51 \\ + 2\boxed{8} \\ \hline 79 \end{array}$$

$$\begin{array}{r} 6\boxed{6} \\ + 17 \\ \hline 83 \end{array}$$

$$\begin{array}{r} 82 \\ - \boxed{5} \\ \hline 77 \end{array}$$

九、不计算,想一想,每一题中哪个括号里填的数大?在括号里画“√”。
(4分)

1. $24 + (\quad) = 44$, $24 + (\checkmark) = 78$ 。

2. $37 - (\quad) = 18$, $37 - (\checkmark) = 16$ 。


十、三个小朋友玩卡片,请你根据下面的两句话猜一猜,谁的卡片最多?谁的卡片最少?(4分)

1. 小明比小强的卡片少一些。 2. 小强比小刚的卡片多得多。

【答案】小强最多,小刚最少。


十一、解决问题。(共18分)

1. 折纸鹤。(4分)




我折了34只纸鹤。

小红



我折了42只纸鹤。

小花



我折的纸鹤比小红折的少7只。

小明

(1) 小明折了多少只纸鹤?

【答案】 $34 - 7 = 27$ (只)

口答:小明折了27只纸鹤。

(2) 小花比小明多折了多少只纸鹤?

【答案】 $42-27=15$ (只)

口答:小花比小明多折了 15 只纸鹤。

2. 小云今年 8 岁,奶奶说:“你的年龄是 12 岁的时候,我是 62 岁。”奶奶今年多少岁?(4 分)

【答案】 $12-8=4$ (岁)

$62-4=58$ (岁)

口答:奶奶今年 58 岁。

3. 小华有 20 个红气球,小红有 16 个黄气球。小华用 4 个红气球换了小红的 3 个黄气球。现在小华、小红各有多少个气球?

(4 分)

【答案】小华: $20-4+3=19$ (个)

小红: $16+4-3=17$ (个)

口答:现在小华有 19 个气球,小红有 17 个气球。

4.



我真粗心,把一个加数个位上的 3 看成了 8,十位上的 7 看成了 1,算得的结果是 32。

正确的结果是多少呢?(6 分)

【答案】 $32-18=14$

$14+73=87$

口答:正确的结果是 87。

十二、(趣味题) \triangle 和 \bigcirc 各表示什么数?(6 分)

$$\triangle + \bigcirc = 9$$

$$\triangle + \triangle + \bigcirc + \bigcirc + \bigcirc = 25$$

$$\triangle = (2)$$

$$\bigcirc = (7)$$